

Eksamen

06.12.2012

TMF3102 Tømrarfaget/Tømrerfaget
Lærlingar og praksiskandidatar / Lærlinger og
praksiskandidater

Nynorsk

Eksamensinformasjon	
Eksamenstid	Eksamen varer i 5 timar.
Hjelpemiddel	Alle hjelpemiddel er tillatne, bortsett frå Internett og andre verktøy som kan brukast til kommunikasjon.
Vedlegg	1. Teikning av hus
Informasjon om vurderinga	Jf. forskrift til opplæringslova §§ 3-52, 3,53, 3-54 og 3-55: "Eksamen skal prøve i kva grad den einskilte praksiskandidaten/lærlingen har nådd kompetansemåla som er fastsette i den læreplanen (Vg3) for opplæring i bedrift som praksiskandidaten/lærlingen tek sikte på å ta fag- eller sveineprøve/har teikna lærekontrakt i."

Situasjonsbeskriving

Bedrifta di har fått i oppdrag å byggje eit tilbygg på ein einebustad. Einebustaden er oppført i 48 x 148 mm bindingsverk med tømmermannskledning. Tilbygget skal utførast med mønedragar og taksperrer og elles vere i same stil som einebustaden.

I det vedlagde teikningsgrunnlaget manglar det detaljteikningar av dei to snitta A-A og B-B.

Oppgåve

Teikne løysingsforslag, og beskriv dei faglege problemstillingane du står overfor i dei to snitta A-A (møneløysing) og B-B (overgang mellom tak og vegg). Grunngi vala dine.

Der det ikkje er nemnt noko om materialar i situasjonsbeskrivinga, vel du materialar sjølv.

Bokmål

Eksamensinformasjon	
Eksamenstid	Eksamen varer i 5 timer.
Hjelpemidler	Alle hjelpemidler er tillatt, bortsett fra Internett og andre verktøy som kan brukes til kommunikasjon.
Vedlegg	1. Tegning av hus
Informasjon om vurderingen	Jf. forskrift til opplæringslova §§ 3-52, 3-53, 3-54 og 3-55: "Eksamen skal prøve i kva grad den einskilte praksiskandidaten/lærlingen har nådd kompetansemåla som er fastsette i den læreplanen (Vg3) for opplæring i bedrift som praksiskandidaten/lærlingen tek sikte på å ta fag- eller sveineprøve/har teikna lærekontrakt i."

Situasjonsbeskrivelse

Bedriften din har fått i oppdrag å bygge et tilbygg på en enebolig. Eneboligen er oppført i 48 x 148 mm bindingsverk med tømmermannskledning. Tilbygget skal utføres med mønedrager og taksperrer og for øvrig være i samme stil som eneboligen.


I det vedlagte tegningsgrunnlaget mangler det detaljtegninger av de to snittene A-A og B-B.

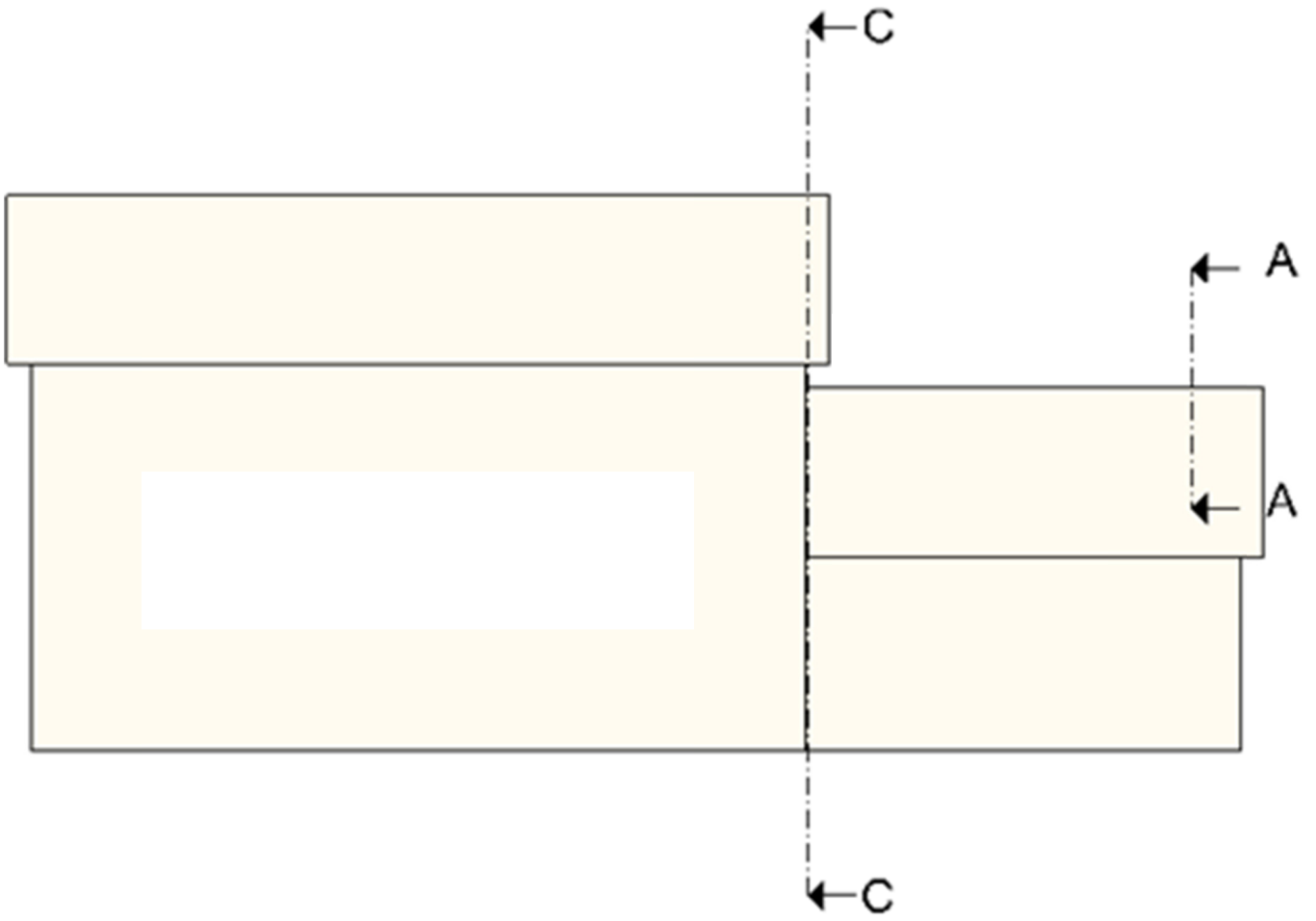
Oppgave

Tegn løsningsforslag, og beskriv de faglige problemstillingene du står overfor i de to snittene A-A (møneløsning) og B-B (overgang mellom tak og vegg). Begrunn valgene dine.

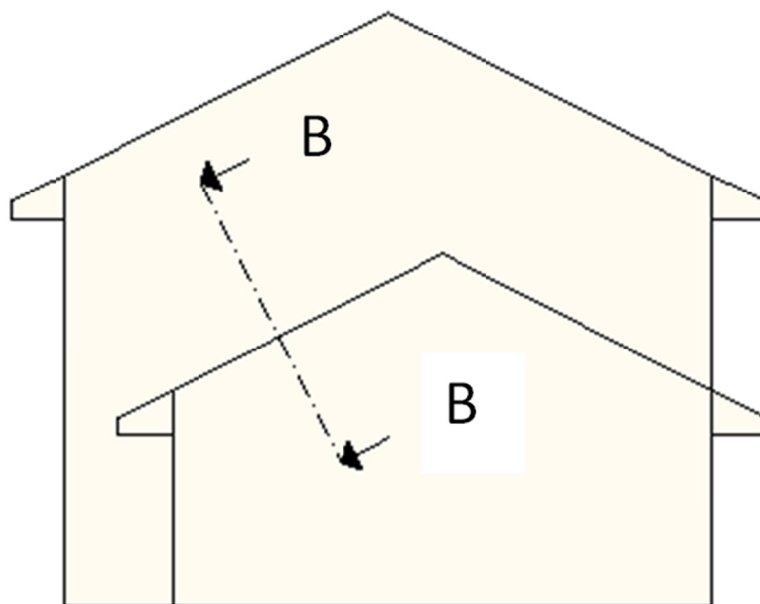
Der det ikke er nevnt noe om materialer i situasjonsbeskrivelsen, velger du materialene selv.

Vedlegg 1





Snitt C-C



Schweigaards gate 15
Postboks 9359 Grønland
0135 OSLO
Telefon 23 30 12 00
utdanningsdirektoratet.no